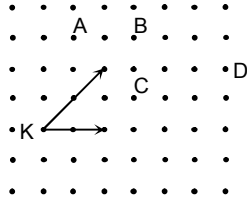


1. Aşağıdaki yargılardan hangisi **yanlıştır**?

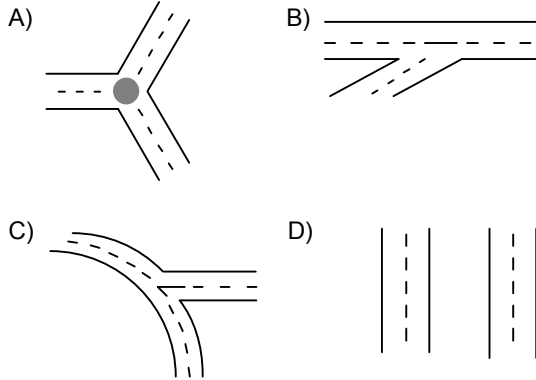
- A) Ortak uçlu iki ışının oluşturduğu şekle açı, bu ortak uca açının köşesi denir.
- B) Açı, ışın olan kenarları üzerindeki birer noktayla ve köşe araya gelecek şekilde isimlendirilip sembolle gösterilir.
- C) Açığa ölçü karşılık tutulduğunda, okuma yönü önemlidir.
- D) Açı çizilirken kenarların uzun veya kısa çizilmesi açının ölçüsünü değiştirir.

2. Yandaki noktali kâğıt üzerinde belirlenmiş A, B, C ve D noktalarından kaç tanesi  $\hat{K}$ 'nin iç bölgesindedir?

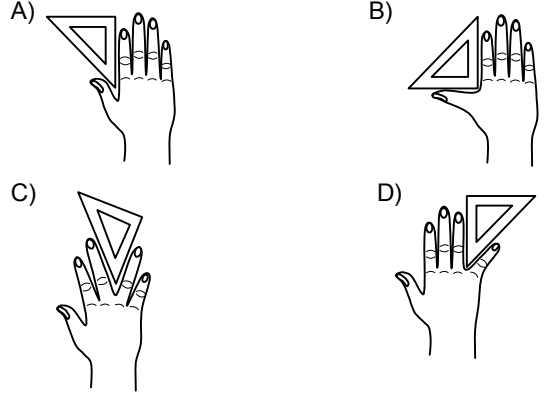


- A) 1
- B) 2
- C) 3
- D) 4

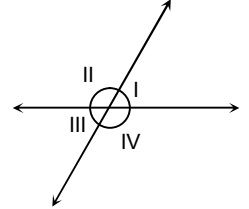
3. Aşağıda krokisi verilmiş yollardan hangisi bir doğrusal çift modelidir?



4. Aşağıdaki parmakların belirttiği açılardan hangisi dik açıdır?

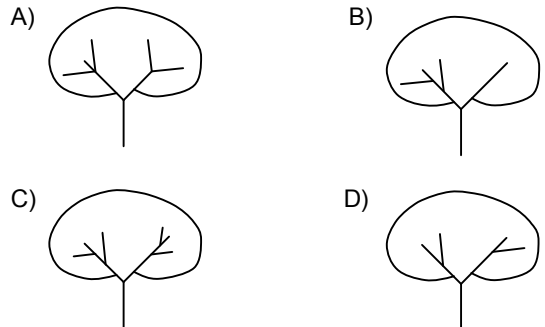


5. Yandaki şekilde numaralandırılan açılardan hangileri komşu bütünlerdir?



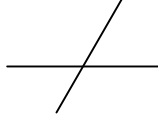
- A) I ve III
- B) II ve IV
- C) III ve IV
- D) I, II ve IV

6. Aşağıdaki ağaçların dallarının oluşturduğu açılardan hangisinde en çok sayıda komşu bütünler açı bulunur?



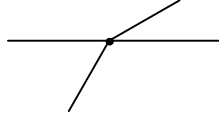
7. Yandaki iki doğru parçasından oluşan modelde aşağıdakilerden hangisi yoktur?

- A) Bütünler açılar  
B) Ters açılar  
C) Doğrusal çift  
D) Tümler açılar



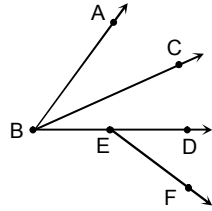
8. Yanda çubukların uçları birleştirilerek oluşturulan modelde kaç tane dar açı vardır?

- A) 2 B) 3 C) 4 D) 5



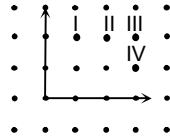
9. Yandaki şekle göre aşağıda verilen açı çiftlerinin hangileri birbirine komşu değildir?

- A)  $\hat{C}BA$  ile  $\hat{D}BC$   
B)  $\hat{B}EF$  ile  $\hat{F}ED$   
C)  $\hat{D}EF$  ile  $\hat{A}BD$   
D)  $\hat{B}EF$  ile  $\hat{F}ED$



10. Yandaki noktalı kâğıt üzerindeki açının açılırtayı numaralandırılmış noktaların hangisinden geçer?

- A) I B) II C) III D) IV



11. Aşağıdaki noktalı kâğıtta verilen açılardan hangisinin açılırtayı doğruyu D noktasından geçmez?

- A) B)   
C) D)

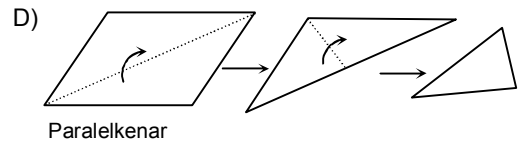
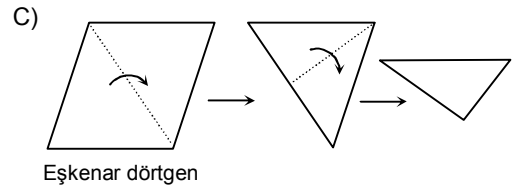
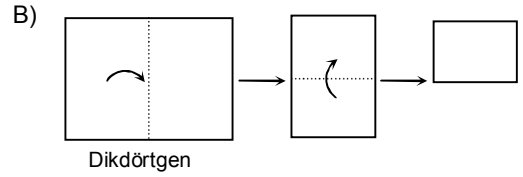
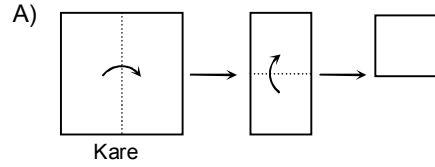
12. "Bir açının açılırtayı, ucu bu açının köşesi olan ve bu açının iç bölgesinde bulunan .....'dır."

Noktalı yere aşağıdakilerden hangisi gelebilir?

- A) Doğru B) Açı  
C) Doğru parçası D) Işın

13. Aşağıda geometrik şekilleri verilen kâğıtlar işaretli yerlerden oklar yönünde üst üste gelecek şekilde katlanıyor.

Kâğıtlar açıldığında hangisinde kat çizgileri iki eş doğru parçası oluşturur?



14. Yandaki şekle göre,

$\hat{A}OB \cap d$  aşağıdakilerden hangisine eşittir?

- A)  $\{A, B\}$  B) AB C) [AB D) [AB

