

1. "Dünya milletlerinin mutluluğuna çalışmak, kendi huzur ve mutluluğuna çalışmak demektir."

Yukarıdaki sözü ile Atatürk hangisinin üzerinde durmuştur?

- A) Ekonomik işbirliğinin
B) Sanayileşmenin
C) Millet sevgisinin
D) Dünya barışının

2. Aşağıdakilerden hangisi dünya üzerindeki nüfusun dağılışına etki eden beşeri faktörlerden biri değildir?

- A) Ulaşım
B) Ticaret
C) İklim
D) Sanayi

3. Sanayinin ve tarımın geliştiği alanlarda nüfus yoğunudur.

Aşağıdaki yerlerden hangisi nüfusun yoğun olduğu yerlerden değildir?

- A) Batı Avrupa
B) Antartika
C) Kuzey Amerika
D) Güneydoğu Asya

4. Dünya nüfusunun en fazla olduğu kıta Asya kıtasıdır.

Aşağıdakilerden hangisi bu durumun nedenlerinden biri değildir?

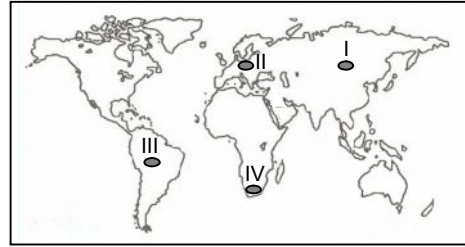
- A) Başka kıtalardan göç alması
B) Tarım alanlarının geniş olması
C) Doğum oranının fazlalığı
D) İklimin elverişli olması

5. Sanayinin geliştiği, eğitim seviyesinin yüksek olduğu ülkelerde doğumlarla meydana gelen nüfus artış hızı azdır.

Buna göre aşağıdaki ülkelerden hangisinde doğumlarla meydana gelen nüfus artış hızı en düşüktür?

- A) Türkiye
B) Hindistan
C) İngiltere
D) Portekiz

- 6.



Yukarıdaki dünya haritasında gösterilen alanların hangisinde nüfusun yoğun olmasında sanayi faaliyetlerinin etkisi en fazladır?

- A) I
B) II
C) III
D) IV

7. İklimi elverişsiz olmasına rağmen yeraltı zenginliklerinin fazlalığı nedeniyle nüfusun ve yerleşmenin fazla olduğu ülkeler vardır.

Aşağıdaki ülkelerden hangisi buna örnek gösterilebilir?

- A) Türkiye
B) Rusya
C) Japonya
D) Arjantin

- 8.

- ❖ İklim
- ❖ Sanayi
- ❖ Turizm
- ❖ Bitki örtüsü

Yukarıda dünya üzerinde nüfusun dağılışına etki eden faktörler verilmiştir.

Bunlardan kaç tanesi doğal faktörlerdendir?

- A) 1
B) 2
C) 3
D) 4

9.

- ❖ AB'nin en güçlü ülkesidir.
- ❖ Türk nüfus oldukça fazladır.
- ❖ Ülkemizin ihracat yaptığı en önemli ülkedir.

Yukarıdaki özellikleri verilen Avrupa ülkesi aşağıdakilerden hangisidir?

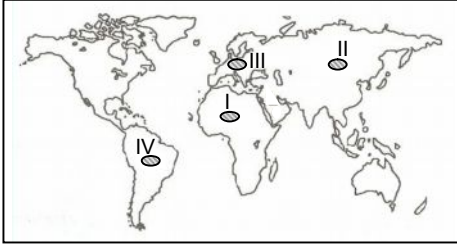
- A) Hollanda
B) Fransa
C) Almanya
D) İngiltere

10. Ülkemizin dışarıya sattığı ürünler arasında tarıma dayalı sanayi ürünleri önemli bir yer tutar.

Buna göre aşağıdaki yargılardan hangisi yanlıştır?

- A) Ülkemizin iklimi tarıma uygundur.
B) Tarım ürünü çeşidi fazladır.
C) Sanayi bitkilerinin ekimi yaygındır.
D) Ülkemizde ağır sanayi gelişmiştir.

11.



Yukarıdaki dünya haritasında gösterilen taralı bölgelerin hangisinde nüfus yoğunluğunun az olmasında elverişsiz iklim koşulları etkili olmuştur?

- A) I B) II C) III D) IV

12. Orta Asya ülkelerinde dokuma sanayi oldukça gelişmiştir.

Bu durumun en önemli nedeni aşağıdakilerden hangisidir?

- A) Ulaşımın kolay olması
B) İş gücünün fazlalığı
C) Hammaddenin bol olması
D) Yeryüzü şekillerinin sadeliği

13. İklim ve denizsellik turizmin gelişmesine neden olan doğal faktörlerdir.

Buna göre aşağıdaki ülkelerden hangisinin turizm gelirlerinin daha fazla olması beklenebilir?

- A) Kanada
B) Rusya
C) Norveç
D) İspanya

14. Devletin ve özel kurumların dışarıdan mal almasına ne denir?

- A) İthalat
B) İhracat
C) Ticaret
D) Döviz

15. I. İran
II. Suriye
III. Mısır
IV. Almanya

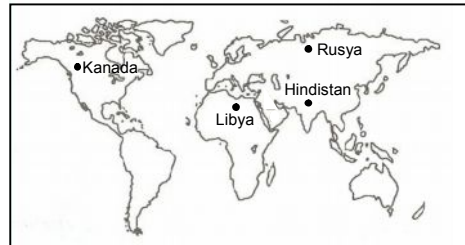
Yukarıdaki verilen ülkelerin hangileri ile sınır komşuluğumuz vardır?

- A) I – II
B) I – III
C) III – IV
D) I – IV

16. Aşağıdakilerden hangisi Türkiye'nin ithal ettiği ürünlerden biri değildir?

- A) Doğal gaz
B) Krom
C) Ham petrol
D) Elektronik eşyalar

17.



Yukarıdaki dünya haritasında gösterilen ülkelerden hangisi ormancılığa dayalı sanayide daha gelişmiştir?

- A) Kanada
B) Rusya
C) Libya
D) Hindistan